

算3-0504チ01

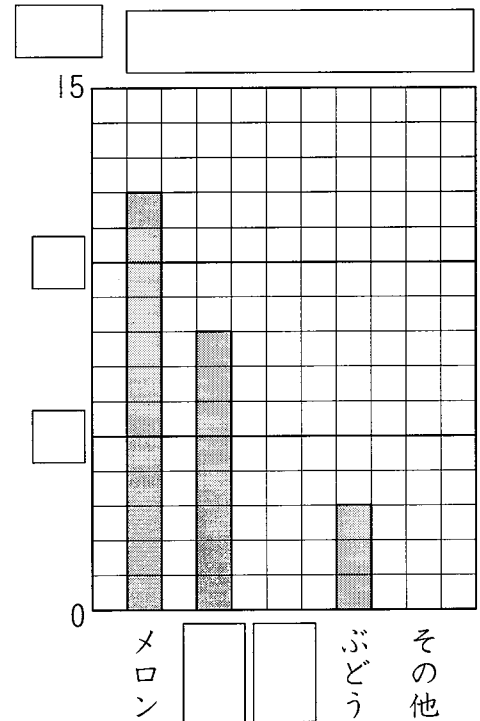


- ① 下の表は、ゆうこさんの組の人たちのすきなくだものを調べたものです。また、右のグラフは、これをぼうグラフに表そうとしたものです。

[9点×4]

すきなくだもの調べ

しゅるい	メロン	すいか	いちご	ぶどう	その他	合計
人数(人)	12	5	8	3	7	35



- (1) 上の表を見て、右のぼうグラフをかんせいさせましょう。
- (2) ゆうこさんの組で、いちばん人気があるくだものは何ですか。
()
- (3) メロンがすきな人は、すいかがすきな人より何人多いでしょう。
()
- (4) ぼうグラフに表すと、表よりもどんなことがわかりやすくなりますか。
記号で答えましょう。()
 - ㊶ 全体ぜんたいの人数がわかりやすくなる。
 - ㊷ 人数の多い少ないがくらべやすくなる。
 - ㊸ 3人の人がすきなくだものは何かがわかりやすくなる。

- ② 右の表は、3年生の3つの組で、すきなアイスクリームのあじについて調べたものです。

[7点×2]

- (1) 3組でチョコのすきな人は何人いますか。
()

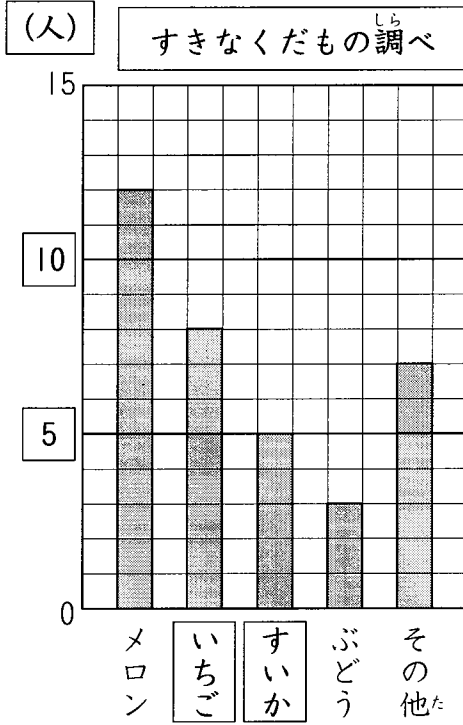
- (2) 3年生は全部ぜんぶで何人いますか。
()

組	1組	2組	3組	合計
しゅるい				
バニラ	12	10	10	32
チョコ	6	8	15	29
まっचा	7	6	4	17
その他	5	7	2	14
合計	30	31	31	92

表とグラフ

解答

① (1)



(2) メロン

(3) 7人

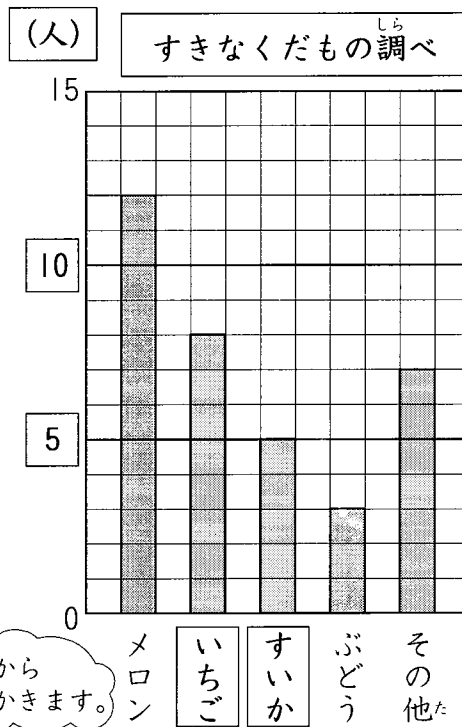
(4) ①

② (1) 15人

(2) 92人

解説

- ① (1) たてのじくは人数を表しているので、たんいは人。
1めもりは1人を表すので、たてのじくの□には下から5, 10とかきます。
- (2) ぼうグラフの高さでくらべると、メロンがいちばん多い。
- (3) メロンがすきな人は, 12人
すいかがすきな人は, 5人
 $12 - 5 = 7$ (人)
- (4) ぼうグラフに表すと, 表よりも大きさがくらべやすくなります。



- ② (1) 3組のらんとチョコのらんのぶつかったところをよみます。
- (2) しゅるいごとの合計と組ごとの合計のらんのぶつかったところをよみます。

しゅるい \ 組	1組	2組	3組	合計
バニラ	12	10	10	32
チョコ	6	8	15	29
まっちゃ	7	6	4	17
その他	5	7	2	14
合計	30	31	31	92