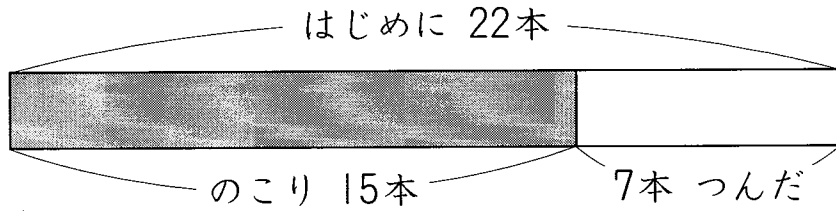


算2-1701チ01



- ① チューリップが 22本 さいていました。7本 つんだので、のこりは 15本に なりました。 [15点×2]



図を見て、つぎの ^{かず}数をもとめる しきを かきましょう。

(1) はじめの チューリップの 数

(2) つんだ チューリップの 数

- ② 青い リボンが 28cm あります。青い リボンは 白い リボンより 15cm みじかいです。白い リボンを □cmとして 図をかき、白い リボンの ^{なが}長さを もとめましょう。 [20点]

(図)

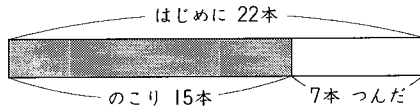
(しき)

(^{こた}答え)

図をつかって

算2-1701チ01

- ① チューリップが 22本 さいていました。7本 つんだので、のこりは 15本 になりました。 [15点×2]



図を見て、つぎの数を もとめる しきを かきましょう。

- (1) はじめの チューリップの 数

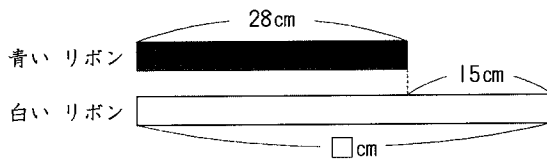
$$15 + 7 = 22$$

- (2) つんだ チューリップの 数

$$22 - 15 = 7$$

- ② 青い リボンが 28cm あります。青い リボン は 白い リボン より 15cm みじかいです。白い リボンを □cm として 図をかき、白い リボンの 長さをもとめましょう。 [20点]

(図)



(しき) $28 + 15 = 43$

$$\begin{array}{r} 28 \\ + 15 \\ \hline 43 \end{array}$$

(答え) 43cm