

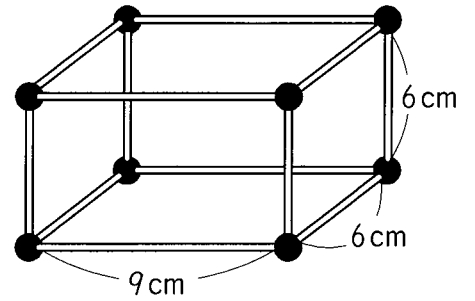
算2-1601チ01



① ひごとねん土玉をつかって、右の
 ようなはこの形かたちをつくりました。
 つぎのもんだいに答えこたましょう。

[10点×3]

(1) ねん土玉は何なんこ いるでしょう。

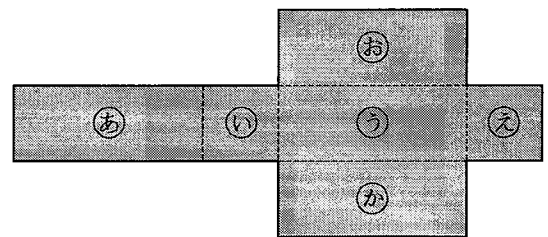


(2) 6cmのひごは何本 いるでしょう。

(3) このはこの形を あつ紙がみで つくるとき、正方形の あつ紙せいほうけい
 は何まい いるでしょう

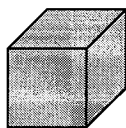
② 工作用紙こうさくようしを 右のように切きって、はこをつくります。 [10点×2]

(1) 組み立てたとき、⑤めんの面と
 むかい合あう面は どれですか。

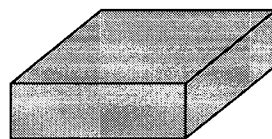


(2) 組み立てると、どの はこが できるでしょう。

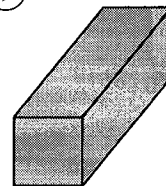
①



②



③



はこの形

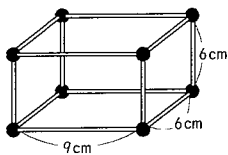
算2-1601チ01

① ひごとねん土玉をつかって、右の
ようなはこの形をつくりました。
つぎの もんだいに 答えましょう。

[10点×3]

(1) ねん土玉は何こ いるでしょう。

8こ



(2) 6cmの ひごは 何本 いるでしょう。

8本

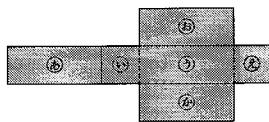
(3) この はこの形を あつ紙で つくるとき、正方形の あつ紙
は 何まい いるでしょう

2まい

② 工作用紙を 右のように 切って、はこをつくります。 [10点×2]

(1) 組み立てたとき、㊦の面と
むかい合う 面は どれですか。

㊦

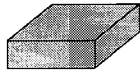


(2) 組み立てると、どの はこができるでしょう。

㊦



㊧



㊨



㊨