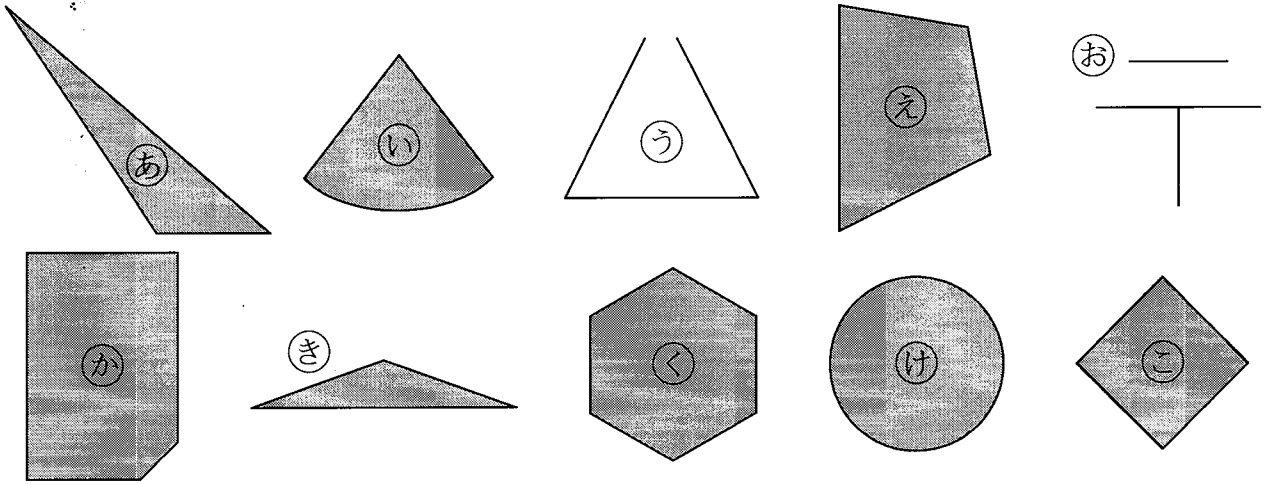


算2-1302チ01



① つぎの ^{かたち}形をみて、下の もんだいに ^{こた}答えましょう。 [10点×3]



(1) ^{ちよくせん}直線だけで かこまれて いる 形は どれですか。

(2) ^{さんかくけい}三角形は どれですか。


(3) ^{しかくけい}四角形は どれですか。

② 下の ^{ほう}方 ^しが ^しん ^し紙に つぎの 形を かきましょう。 [(1)(2)6点×2, (3)8点]

(1) 2つの ^{へん}辺の ^{なが}長さが 2cmと 4cmの ^{ちようほうけい}長方形

(2) 1つの ^{へん}辺の ^{なが}長さが 4cmの ^{せいほうけい}正方形

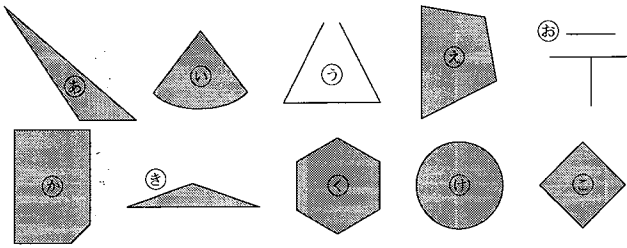
(3) ^{ちよくかく}直角を はさむ 2つの ^{へん}辺の ^{なが}長さが 5cmと 2cmの ^{ちよくさんかくけい}直角三角形



三角形と四角形

算2-1302チ01

① つぎの形をみて、下のもんだいに答えましょう。 (10点×3)



(1) 直線だけでかこまれて いる形は どれですか。

(a) (e) (ka) (ki) (ku) (co)

(2) 三角形は どれですか。

(a) (ki)

(3) 四角形は どれですか。

(e) (co)

② 下の方かん紙に つぎの形を かきましょう。 [(1)(2)6点×2, (3)8点]

- (1) 2つの 辺の 長さが 2cmと 4cmの 長方形
- (2) 1つの 辺の 長さが 4cmの 正方形
- (3) 直角を はさむ 2つの 辺の 長さが 5cmと 2cmの 直角三角形

