




① かけ算のしきに かきましょう。答えは たし算でもとめま
しょう。 [5点×2]



しき

たし算

答え

しき

たし算


答え

② 九九を つかって 計算しましょう。 [3点×9]

- (1) $2 \times 1 = \square$ (2) $2 \times 2 = \square$ (3) $2 \times 5 = \square$
 (4) $2 \times 7 = \square$ (5) $5 \times 2 = \square$ (6) $5 \times 3 = \square$
 (7) $5 \times 6 = \square$ (8) $5 \times 8 = \square$ (9) $5 \times 9 = \square$

③ つぎの もんだいに 答えましょう。

(1) 1はこに ソフトクリームが 2こずつ 入って
います。5はこでは 何こに なりますか。 [6点]



(しき) (答え)

(2) 1本の 木に りんごが 5こずつ なって います。
木が 7本では りんごは 何こに なるでしょう。

[7点]



(しき) (答え)

算2-0905チ01



① 九九を つかって ^{けいさん}計算しましょう。

[2点×18]

(1) $3 \times 2 =$

(2) $3 \times 3 =$

(3) $4 \times 1 =$

(4) $4 \times 5 =$

(5) $3 \times 6 =$

(6) $3 \times 7 =$

(7) $4 \times 8 =$

(8) $4 \times 9 =$

(9) $3 \times 4 =$

(10) $3 \times 5 =$

(11) $4 \times 6 =$

(12) $4 \times 7 =$

(13) $3 \times 8 =$

(14) $3 \times 9 =$

(15) $4 \times 2 =$

(16) $4 \times 3 =$


(17) $3 \times 1 =$

(18) $4 \times 4 =$

② つぎの もんだいに ^{こた}答えましょう。

[7点×2]

(1) 1さらに ケーキが 3こずつ のって います。
5さらでは ^{なん}何こに なるでしょう。




(しき)

(答え)

(2) 1まいの はの 上にかえるが 4ひきずつ のって います。はが 6まいでは 何びきに なるでしょう。

(しき)

(答え)



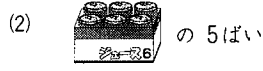
かけ算(1) 1

算2-0903チ01

かけ算(1) 2

算2-0905チ01

① かけ算のしきに かきましょう。答えは たし算で もとめま
しょう。 [5点×2]



しき 8×4

しき 6×5

たし算 $8+8+8+8=32$

たし算 $6+6+6+6+6=30$

答え 32こ

答え 30本

② 九九を つかって 計算しましょう。 [3点×9]

(1) $2 \times 1 = 2$ (2) $2 \times 2 = 4$ (3) $2 \times 5 = 10$

(4) $2 \times 7 = 14$ (5) $5 \times 2 = 10$ (6) $5 \times 3 = 15$

(7) $5 \times 6 = 30$ (8) $5 \times 8 = 40$ (9) $5 \times 9 = 45$

③ つぎの もんだいに 答えましょう。

(1) 1はこに ソフトクリームが 2こずつ 入っ
ています。5はこでは 何こに なりますか。 [6点]
(しき) $2 \times 5 = 10$ (答え) 10こ



(2) 1本の 木に りんごが 5こずつ なっています。
木が 7本では りんごは 何こに なるでしょう。
(しき) $5 \times 7 = 35$ (答え) 35こ



① 九九を つかって 計算しましょう。 [2点×18]

(1) $3 \times 2 = 6$ (2) $3 \times 3 = 9$ (3) $4 \times 1 = 4$

(4) $4 \times 5 = 20$ (5) $3 \times 6 = 18$ (6) $3 \times 7 = 21$

(7) $4 \times 8 = 32$ (8) $4 \times 9 = 36$ (9) $3 \times 4 = 12$

(10) $3 \times 5 = 15$ (11) $4 \times 6 = 24$ (12) $4 \times 7 = 28$

(13) $3 \times 8 = 24$ (14) $3 \times 9 = 27$ (15) $4 \times 2 = 8$

(16) $4 \times 3 = 12$ (17) $3 \times 1 = 3$ (18) $4 \times 4 = 16$

② つぎの もんだいに 答えましょう。 [7点×2]

(1) 1さらに ケーキが 3こずつ のっています。
5さらでは 何こに なるでしょう。



(しき) $3 \times 5 = 15$ (答え) 15こ

(2) 1まいの はの 上にかえるが 4ひきずつ のっ
ています。はが 6まいでは 何びきに なるでしょう。

(しき) $4 \times 6 = 24$ (答え) 24ひき

