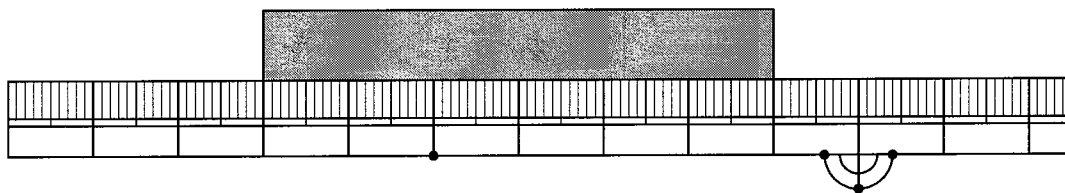




① ^{なが}長さは どれだけでしょう。

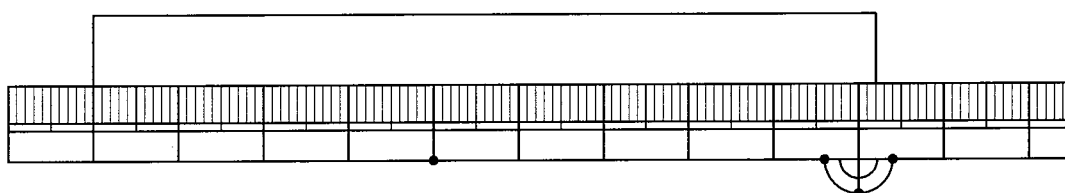
[8点 × 3]

(1)



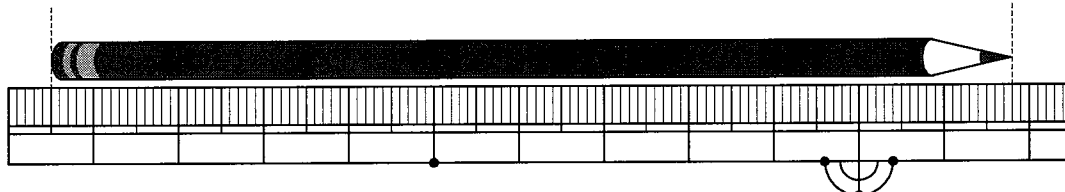
()

(2)



()

(3)



()

② 長い じゅん に ならべ ましょう。


[13点]

28mm 3cm 3cm 2mm 31mm

Empty rectangular box for drawing the objects in order of length.

③ 右の カードの たては 10cmで よこは 12cm 8mmです。よこは、たてより どれだけ 長いでしょう。

[13点]



(しき)

^{こた}(答え)



① □にあてはまる ^{かず}数を かきましょう。 [7点×3]

(1) 1mは、1cmが □こ あつまった ^{なが}長さです。

(2) 1mの ものさして 6つぶんの 長さは、 □mです。

(3) 1mより 40cm 長い 長さは、 □cmです。

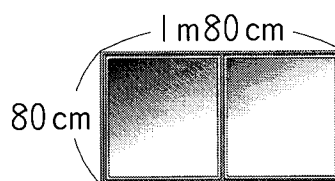
② 長い じゅんに ならべかえましょう。 [9点]

8m9cm, 810cm, 7m90cm, 8m12cm

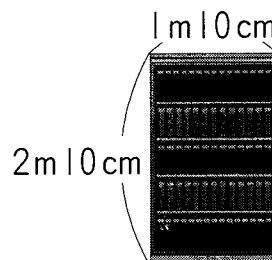
()

③ どちらが どれだけ 長いでしょう。 [10点×2]

(1) まどの たての 長さ と よこの 長さ



(2) 本だなの たての 長さ と よこの 長さ



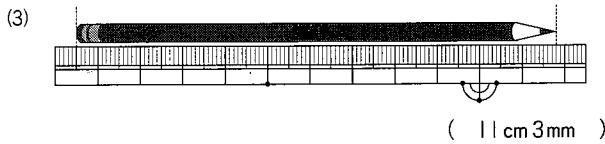
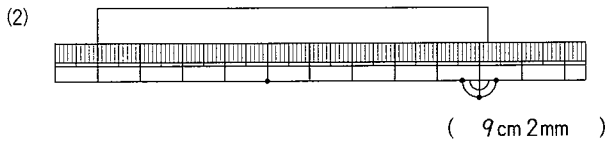
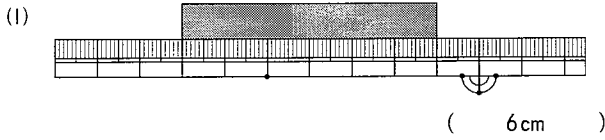
長さ1

算2-0602チ01 長さ2

算2-0604チ01

① 長さは どれだけでしょう。

[8点×3]



② 長い じゅん に ならべ ましょう。


[13点]

28mm 3cm 3cm 2mm 31mm

3cm 2mm 31mm 3cm 28mm

③ 右の カード の たて は 10cm で よこ は 12cm 8mm です。よこは、たてより どれだけ 長い でしょう。

[13点]



(しき) $12\text{cm } 8\text{mm} - 10\text{cm} = 2\text{cm } 8\text{mm}$

(答え) 2cm 8mm

① □ に あて は まる 数 を かき ましょう。

[7点×3]

(1) 1m は、1cm が こ あつ まつ た 長さ です。

(2) 1m の もの さし て 6 つ ぶ ん の 長さは、 m です。

(3) 1m より 40cm 長 い 長さは、 cm です。

② 長い じゅん に ならべ かえ ましょう。

[9点]

8m 9cm, 810cm, 7m 90cm, 8m 12cm

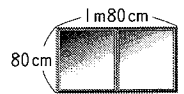
(8m 12cm 810cm 8m 9cm 7m 90cm)

③ どちら が どれ だけ 長 い でしょう。

[10点×2]

(1) まど の たて の 長さ と よこ の 長さ

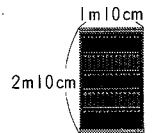
$$1\text{m } 80\text{cm} - 80\text{cm} = 1\text{m}$$



よこ の ほう が 1m 長 い

(2) 本 だ な の たて の 長さ と よこ の 長さ

$$2\text{m } 10\text{cm} - 1\text{m } 10\text{cm} = 1\text{m}$$



たて の ほう が 1m 長 い