

算2-0202チ01



① つぎの たし算^{ざん}を しましょう。

[4点×6]

(1) $12+3$

(2) $14+7$

(3) $35+7$

(4) $28+50$

(5) $40+30$

(6) $80+20$

② つぎの たし算を ひっ算で しましょう。


[5点×3]

(1) $34+12$

(2) $65+29$

(3) $9+76$

③ ゆう子さんは、37円の ガムと 48円の
アイスクリームを ^か 買いました。
あわせて いくらでしょう。



[11点]

(しき)

(ひっ算)

(こた
え)
(答え)

たし算2

算2-0204チ01



① つぎの ^{こた}答えを ひっ^{さん}算で たしかめましょう。正しいときは [] に ○ を、まちがっているときは × をかきましょう。

[10点×2]

(1) $46+23=69$ [] (2) $37+58=85$ []

② 本をきのうは 48 ページ、きょうは 46 ページ ^よ読みました。あわせて ^{なん}何ページ 読んだでしょう。答えのたしかめも しましょう。

[15点]

(しき)

(ひっ算)

(答えのたしかめ)


(答え)

③ 下の ^え絵を見て たし算の もんだいをつくりましょう。

[15点]




50円



32円



62円



36円



25円

たし算1

算2-0202チ01 たし算2

算2-0204チ01

① つぎの たし算を しまししょう。

(4点×6)

(1) 12+3=15

(2) 14+7=21

(3) 35+7=42

(4) 28+50=78

(5) 40+30=70

(6) 80+20=100

② つぎの たし算を ひっ算で しまししょう。

(5点×3)

(1) 34+12

(2) 65+29

(3) 9+76

$$\begin{array}{r} 34 \\ + 12 \\ \hline 46 \end{array}$$

$$\begin{array}{r} 65 \\ + 29 \\ \hline 94 \end{array}$$

$$\begin{array}{r} 9 \\ + 76 \\ \hline 85 \end{array}$$

③ ゆう子さんは、37円の ガムと 48円の アイスクリームを 買いました。あわせて いくらでしょう。



(11点)

(しき) 37+48=85

(ひっ算)

$$\begin{array}{r} 37 \\ + 48 \\ \hline 85 \end{array}$$

(答え)

85円

① つぎの 答えを ひっ算で たしかめましよう。正しいときは []に ○を、まちがっているときは ×をかきましよう。

(10点×2)

(1) 46+23=69 [○]

(2) 37+58=85 [×]

$$\begin{array}{r} 46 \\ + 23 \\ \hline 69 \end{array}$$

$$\begin{array}{r} 37 \\ + 58 \\ \hline 95 \end{array}$$

② 本を きのうは 48ページ、きょうは 46ページ 読みました。あわせて 何ページ 読んだでしょう。答えのたしかめも しまししょう。

(15点)

(しき) 48+46=94

(ひっ算)

(答えのたしかめ)

$$\begin{array}{r} 48 \\ + 46 \\ \hline 94 \end{array}$$

$$\begin{array}{r} 46 \\ + 48 \\ \hline 94 \end{array}$$

(答え) 94ページ

③ 下の 絵を見て たし算の もんだいをつくりましよう。

(15点)



50円



32円



62円



36円



25円

(れい) 50円の にんじんと 32円の たまねぎを 買いました。あわせて いくらでしょう。