






























ひょうとグラフ

算2-0101チ01

① みんなの名前のアルファベットで、かんバッジを作りました。

 はるこ 色:水色	 ゆい 色:赤	 ゆうと 色:みどり	 はな 色:水色	 そうた 色:みどり	 めい 色:ピンク	かんバッジの見本   赤 ピンク   水色 みどり	
 はるき 色:赤	 ほのか 色:ピンク	 りく 色:赤	 ひまり 色:ピンク	 あかり 色:赤	 こはる 色:ピンク		
 ゆいか 色:水色	 みう 色:赤	 れん 色:赤	 ゆうな 色:みどり	 かいと 色:水色	 しおり 色:赤		
 ゆうせい 色:赤	 みな 色:水色	 しょうま 色:水色	 すずか 色:水色	 えいと 色:みどり	 はるか 色:ピンク		 こうき 色:赤

- (1) ① アルファベットの数を、 ② 色の数を、○をつかって
○をつかってグラフに ①をつかってグラフにあらわしま
あらわしましょう。 しょう。 [10点×2]

アルファベットの数しらべ

		○					
		○					○
		○	○			○	○
		○	○	○		○	○
		○	○	○	○	○	○
○	○	○	○	○	○	○	○
A	E	H	K	M	R	S	Y

色の数しらべ

○			
○		○	
○		○	
○		○	
○	○	○	
○	○	○	○
○	○	○	○
○	○	○	○
○	○	○	○
○	○	○	○
赤	ピンク	水色	みどり

- (2) いちばん多いアルファベットは何ですか。 [10点] (H)
 (3) いちばんにんきの色は何ですか。 [10点] (赤)
 (4) 水色をえらんだ人は何人ですか。 [10点] (8人)