



- ① あつこさんは まえから 6ばんめに います。あつこさんの
うしろには 5にん います。みんなで なんにん いるでしょ
う。 [16点]

(ず)

(しき)

(こたえ)

- ② ふうせんが 12こ あります。9にんに 1こずつ くばると、
なんこ のこるでしょう。 [17点]

(ず)

(しき)

(こたえ)

- ③ ばらが 10ぼん あります。ゆりは ばらより 3ぼん すくな
く かおうと おもいます。ゆりは なんぼん かえば よいで
しょう。 [17点]

(ず)

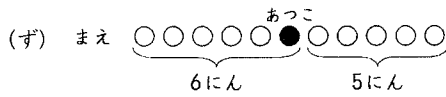
(しき)

(こたえ)

ずをつかって

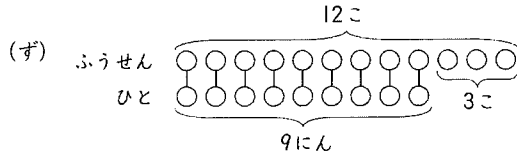
算1-1601チ01

- ① あつこさんは まえから 6ばんめに います。あつこさんの うしろには 5にん います。みんなで なんにん いるでしょう。 [16点]



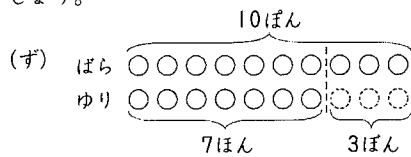
(しき) $6 + 5 = 11$ (こたえ) 11にん

- ② ふうせんが 12こ あります。9にんに 1こずつ くばると、 なんこ のこるでしょう。 [17点]



(しき) $12 - 9 = 3$ (こたえ) 3こ

- ③ ばらが 10ぼん あります。ゆりは ばらより 3ぼん すくなく かおうと おもいます。ゆりは なんぼん かえば よいで しょう。 [17点]



(しき) $10 - 3 = 7$ (こたえ) 7ぼん