
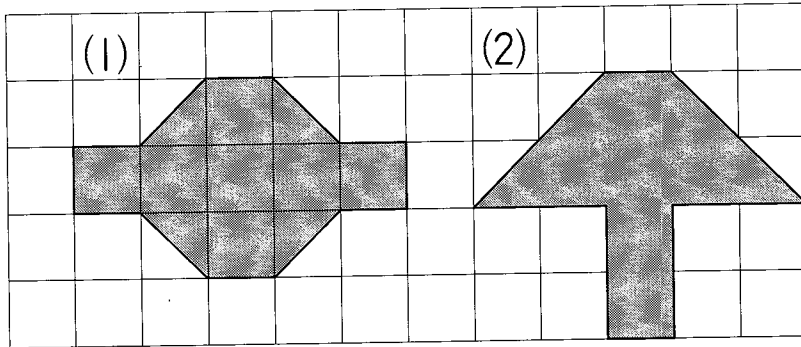


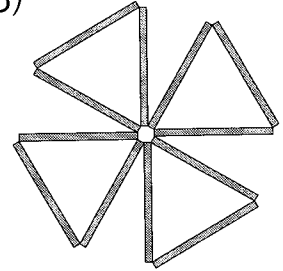


①  の いろいろたや ぼうが いくつで できて いるでしょう。

[6点×3]




(3)



まい



まい

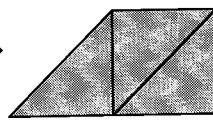
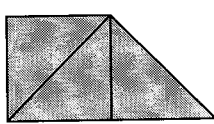


ほん



② ひだりの いろいろたを 1まい うごかして、 みぎの かたちを つくりました。 ひだりで うごかした いろいろたに ○を つけ ましょう。

[8点×2]

(1)



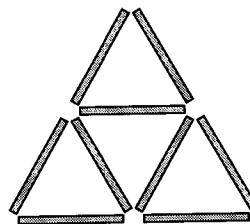
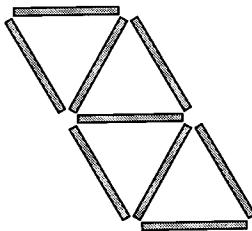
(2)



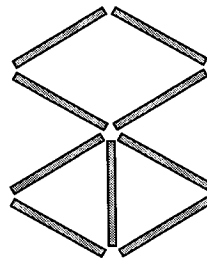
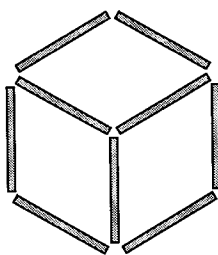
③ ひだりの ぼうを 2ほん うごかして、 みぎの かたちを つく りました。 ひだりで うごかした ぼうに ○を つけましょ う。

[8点×2]

(1)



(2)

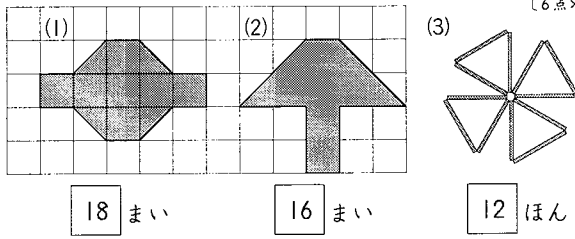


かたちづくり

算1-1501チ01

① ▲の いろいろたや ぼうがいくつできてきているでしょう。

[6点×3]



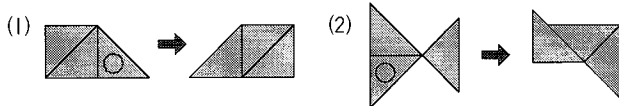
18 まい

16 まい

12 ほん

② ひだりの いろいろたを 1まい うごかして、みぎの かたちをつくりました。ひだりて うごかした いろいろたに ○をつけましょう。

[8点×2]



③ ひだりの ぼうを 2ほん うごかして、みぎの かたちをつくりました。ひだりて うごかした ぼうに ○をつけましょう。

[8点×2]

