

算1-1402チ01



① うえと したで おなじ かたちの なかまを — せんで おすびましょう。

[25点]



•



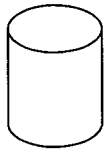
•



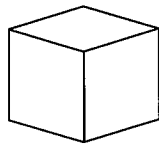
•



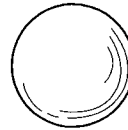
•



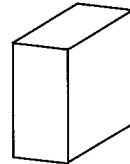
•



•



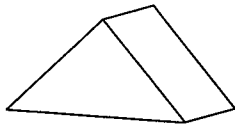
•



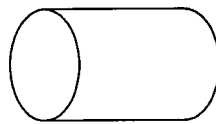
•

② うえの つみきから、したの どの かたちを かいたで しょう。 — せんで おすびましょう。

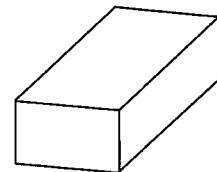
[25点]



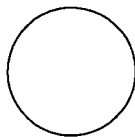
•




•



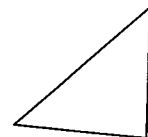
•



•



•



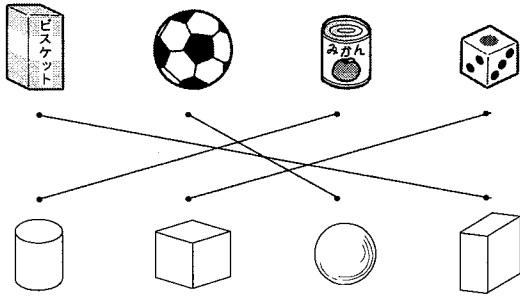
•

かたち

算1-1402チ01

- ① うえと したで おなじ かたちの なかまを — せて むすびましよう。

[25点]



- ② うえの つみきから、したの どの かたちを かいたで しょう。 — せて むすびましよう。

[25点]

