


算1-1302チ01



① とけいを よみましょう。


[7点×3]

(1)




()

(2)



()

(3)




()


② ながいはりを かきましょう。

[8点×2]

(1) 8じ





(2) 2じ30ぶん



③ あゆみさんは、おひるまでに こうえんに 行って、かえって きました。あてはまる とけいは どれでしょう。㉠～㉤から えらんで ()に かきましょう。

[13点]



• いえを でた とき ()



• こうえんについた とき ()

• こうえんを でた とき ()

• いえについた とき ()



とけい

算1-1302チ01

① とけいをよみましょう。

[7点×3]

(1)



(2)



(3)



(4じ) (12じはん) (10じ18ふん)

② ながいはりをかきましょう。

[8点×2]

(1) 8じ



(2) 2じ30ふん



③ あゆみさんは、おひるまでに こうえんにいって、かえってきました。あてはまるとけいはどれでしょう。①～④からえらんで () にかきましょう。

[13点]

- いえをでたとき (㉑)
- こうえんについたとき (㉒)
- こうえんをでたとき (㉓)
- いえについたとき (㉔)

