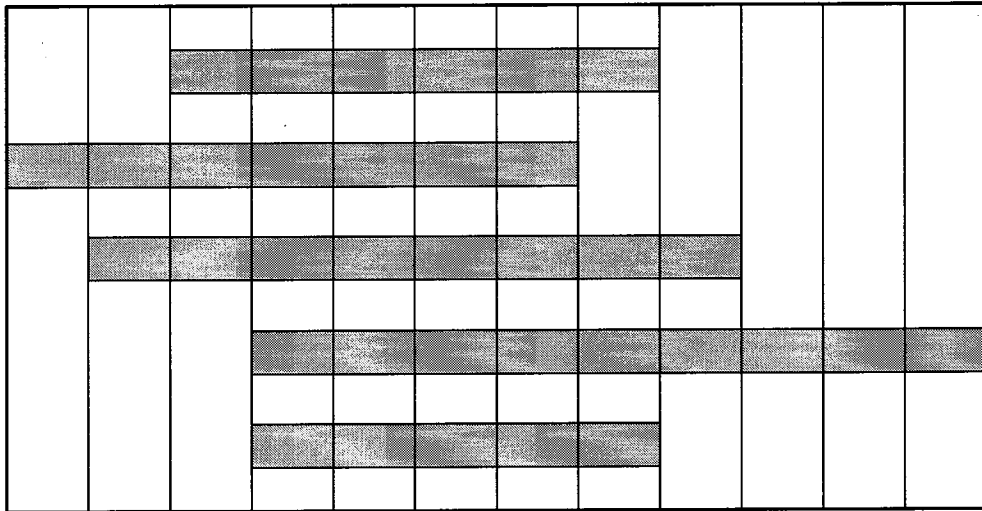


算1-1203チ01



① ながいものから、じゅんにばんごうをかきましょう。

[20点]



()

()

()


()

()


② どちらのほうがなんばい おおくはいつているでしょう。

[10点]

すいとう



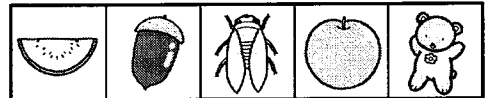



やかん



Blank rectangular box for writing the answer.

③ ひろいじゅんにばんごうをかきましょう。

[20点]



()

()

()

()

おおきくらべ

算1-1203チ01


① ながいものから、じゅんにばんごうをかきましょう。

[20点]

(4)
(3)
(2)
(1)
(5)

② どちらのほうがなんばい おおく はいっているでしょう。


[10点]



やかんのほうが4はい おおく はいっている

③ ひろいじゅんにばんごうをかきましょう。

[20点]



(2) (4) (1) (3)