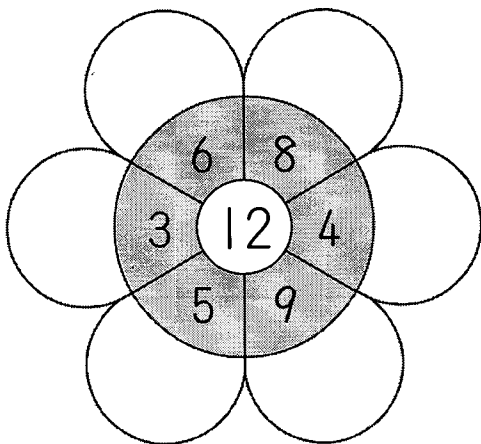





① まんなかの かずから まわりの かずを ひきましょう。

[10点×2]

(1)



(2)



② つぎの もんだいに こたえましょう。

[10点×2]

(1) ちょうが 13びき います。とんぼが 9びき います。
ちがいは なんびきでしょう。

(しき)

(こたえ)

(2) めだかが 14ひき います。ともだちに 6ひき あげまし
た。のこりは なんびきでしょう。

(しき)

(こたえ)

③ こたえが 6に なる かあどは どれでしょう。○で
かこみましょう。

[10点]

11-5

16-7

18-9

14-8

12-4

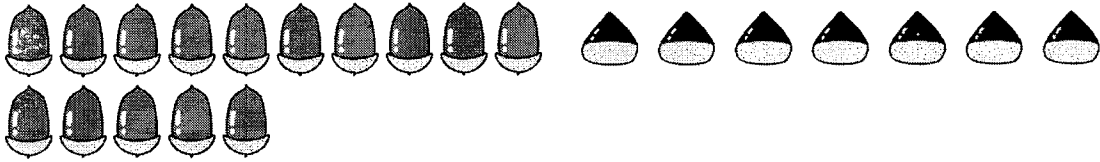
15-9

13-7

11-6



① えをみて $15 - 7$ のしきになるおはなしをつくりましょう。 [20点]




どんぐりが _____

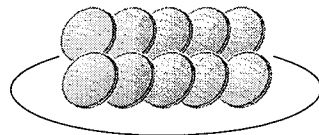
② たしざんのおはなしには○を、ひきざんのおはなしには×を ()にかきましょう。 [10点]

() けんじさんはいちごを7こたべました。あきらはさんはいちごを11こたべました。あきらはけんじさんよりなんこおおくたべたでしょう。

③ したのえをみて、たしざんのおはなしとひきざんのおはなしをつくりましょう。 [20点]



あめ



くっきい

<おはなし> _____

たしざん

ひきざん

ひきざん(2) 1

算1-1002チ01

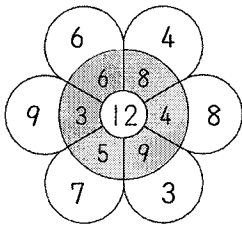
ひきざん(2) 2

算1-1004チ01

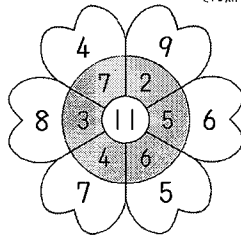
① まんなかの かずから まわりの かずを ひきましょう。

[10点×2]

(1)



(2)



② つぎの もんだいに こたえましょう。

[10点×2]

(1) ちょうが 13ひき います。とんぼが 9ひき います。ちがいは なんびき でしょう。

(しき) $13 - 9 = 4$ (こたえ) 4ひき

(2) めだかが 14ひき います。ともだちに 6ひき あげました。のこりは なんびき でしょう。

(しき) $14 - 6 = 8$ (こたえ) 8ひき

③ こたえが 6になる かあどは どれ でしょう。○で かこみましょう。

[10点]

$11-5$ $16-7$ $18-9$ $14-8$

$12-4$ $15-9$ $13-7$ $11-6$

① えを みて 15 - 7 の しき になる おはなしを つくりましょう。

[20点]



どんぐりが 15こ と くりが 7こ あります。

どんぐりは くりより なんこ おおいて しょう。

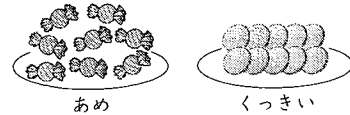
② たしざんのおはなしには ○を、ひきざんのおはなしには ×を ()に かきましょう。

[10点]

(×) けんじさんは いちごを 7こ たべました。あきらは いちごを 11こ たべました。あきらは けんじさんより なんこ おおく たべた でしょう。

③ したの えを みて、たしざんのおはなしと ひきざんのおはなしを つくりましょう。

[20点]



れい

<おはなし>

たしざん あめが 8こ あります。くっきいが 10こ あります。ぜんぶで なんこ でしょう。

ひきざん あめが 8こ あります。くっきいが 10こ あります。くっきいは あめより なんこ おおいて しょう。