

算1-0503チ01



① けいさんを しましょう。


〔4点×9〕

(1)  $4 - 3$       (2)  $7 - 5$       (3)  $3 - 1$

(4)  $8 - 8$       (5)  $9 - 2$       (6)  $6 - 4$

(7)  $4 - 0$       (8)  $6 - 2$       (9)  $8 - 5$

② つぎの もんだいに こたえましょう。

(1) くっきいが 10まい あります。6まい  
たべました。のこりは なんまいでしょう。


〔4点〕

(しき)

(こたえ)

(2) やぎが 3びき, ひつじが 7びき います。  
ちがいは なんびきでしょう。

〔5点〕



(しき)

(こたえ)

(3) こうえんで こどもが 5にん あそんで います。みんな  
かえりました。こうえんに なんにん のこっているで  
しょう。

〔5点〕

(しき)

(こたえ)



① かあどの うらに こたえを かきましょう。 [4点×6]

	おもて	うら		おもて	うら
(1)	$8-6$		(2)	$4-4$	
(3)	$3-2$		(4)	$8-4$	
(5)	$10-3$		(6)	$9-3$	

② こたえが おなじ かあどを — せて おすびましょう。 [16点]

$9-4$	$6-0$	$8-1$	$5-2$
.	.	.	.
$6-1$	$7-4$	$10-4$	$9-2$

③ えをみて  $5-3$  のしきになる おはなしをつくりましよう。 [10点]



どおなつが \_\_\_\_\_

\_\_\_\_\_

\_\_\_\_\_

ひきざん(1)1

算1-0503チ01


ひきざん(1)2

算1-0505チ01


① けいさんをしましょう。 [4点×9]

- (1)  $4 - 3 = 1$  (2)  $7 - 5 = 2$  (3)  $3 - 1 = 2$   
 (4)  $8 - 8 = 0$  (5)  $9 - 2 = 7$  (6)  $6 - 4 = 2$   
 (7)  $4 - 0 = 4$  (8)  $6 - 2 = 4$  (9)  $8 - 5 = 3$

② つぎの もんだいに こたえましょう。

(1) くっきいが 10まい あります。6まい 食べました。のこりは なんまい でしょう。  [4点]

(しき)  $10 - 6 = 4$  (こたえ) 4まい

(2) やぎが 3ひき, ひつじが 7ひき います。ちがいは なんびき でしょう。  [5点]

(しき)  $7 - 3 = 4$  (こたえ) 4ひき

(3) こうえんで こどもが 5にん あそんでいます。みんな かえりました。こうえんに なんにん のこっている でしょう。 [5点]

(しき)  $5 - 5 = 0$  (こたえ) 0にん

① かあどの うらに こたえを かきましょう。 [4点×6]

- (1) 

おもて	うら
$8-6$	2

 (2) 

おもて	うら
$4-4$	0

  
 (3) 

おもて	うら
$3-2$	1

 (4) 

おもて	うら
$8-4$	4

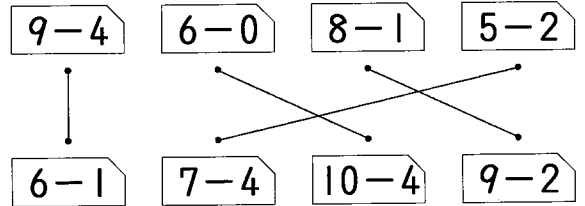
  
 (5) 

おもて	うら
$10-3$	7

 (6) 

おもて	うら
$9-3$	6

② こたえが おなじ かあどを せんて むすびましょう。 [16点]



③ えをみて  $5 - 3$  の しきになる おはなしをつくりましょう。 [10点]



どおなつが 5こ あります。

けえきが 3こ あります。

ちがいは なんこ でしょう。