

算1-0201チ01



① つぎの もんだいに こたえましょう。

[7点×6]



(1) どうぶつは ぜんぶで なんびき いるでしょう。

()

(2) ひだりから 3ばんめの どうぶつは なんでしょう。

()

(3) ひだりから 3びきの どうぶつは なんでしょう。

()

(4) みぎから 4ばんめの どうぶつは なんでしょう。

()

(5) やぎは みぎから なんばんめでしょう。

()

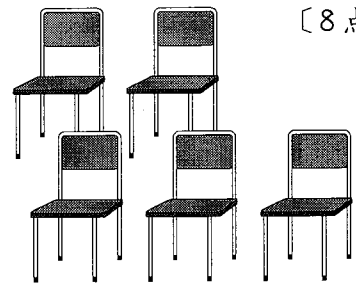

(6) らいおんは ひだりから なんばんめでしょう。

()

② まえから なんばんめの ひとまでが
いすに すわれるでしょう。

[8点]

まえ



なんばんめ

算1-0201チ01

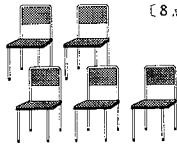
① つぎの もんだいに こたえましょう。 [7点×6]



- (1) どうぶつは ぜんぶで なんびき いるでしょう。
(7ひき)
- (2) ひだりから 3ばんめの どうぶつは なんでしょう。
(いぬ)
- (3) ひだりから 3びきの どうぶつは なんでしょう。
(かんがるう らいおん いぬ)
- (4) みぎから 4ばんめの どうぶつは なんでしょう。
(うし)
- (5) やぎは みぎから なんばんめでしょう。
(2ばんめ)
- (6) らいおんは ひだりから なんばんめでしょう。
(2ばんめ)

② まえから なんばんめの ひとまでが いすに すわれるでしょう。 [8点]

まえ



5ばんめ