



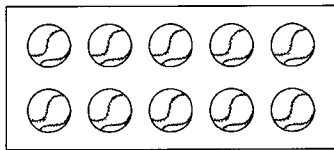

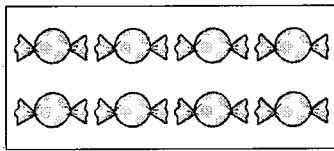



算1-0103チ01



① えの かずだけ ● を かきましょう。

□ に すうじを かきましょう。

[5点×3]



② かくれている かずを [] に かきましょう。

[10点]

	1	2	3			6		8		10
[]				[] []	[]		[]		[]	

③ □ に あてはまる かずを かきましょう。

[5点×5]

(1) 0 — [] — 2

(2) 8 — 9 — []

(3) 8 — [] — 6 — [] — 4

(4) [] — 3 — 2


(5) 3 — [] — 1 — []

算1-0104チ01



① どれが いちばん おおいでしょう。

[7点]



そふとくりいむ

けえき

どおなう

[]

② おおきい ほうに ○を つけましょう。

[7点×3]

(1) (3 10) (2) (6 0) (3) (4 9)


③ いちばん ちいさい かずに ○を つけましょう。

[7点×2]

(1) (5 2 7) (2) (4 8 1)

④ ねこと さかなでは どちらが どれだけ おおいでしょう。

[8点]



[]

の ほうが

[]

ひき おおい。

かずとすうじ1

算1-0103チ01 かずとすうじ2

算1-0104チ01


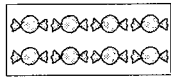
① えの かずだけ ● を かきましょう。

□ に すうじを かきましょう。


[5点×3]



3



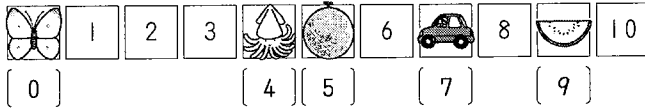
8



10


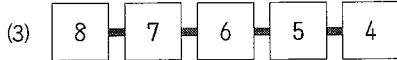
② かくれている かずを [] に かきましょう。

[10点]




③ □ に あてはまる かずを かきましょう。

[5点×5]



① どれが いちばん おおいでしょう。

[7点]



そふとくりわ

けえき

どおなつ

けえき

② おおきい ほうに ○ を つけましょう。

[7点×3]

(1) (3 (10)) (2) ((6) 0) (3) (4 (9))

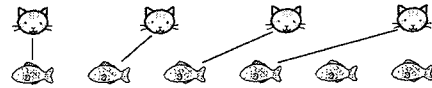
③ いちばん ちいさい かずに ○ を つけましょう。

[7点×2]

(1) (5 (2) 7) (2) (4 8 (1))

④ ねこと さかなでは どちらが どれだけ おおいでしょう。

[8点]



さかな の ほうが 2 ひき おおい。