

算3-1304チ01

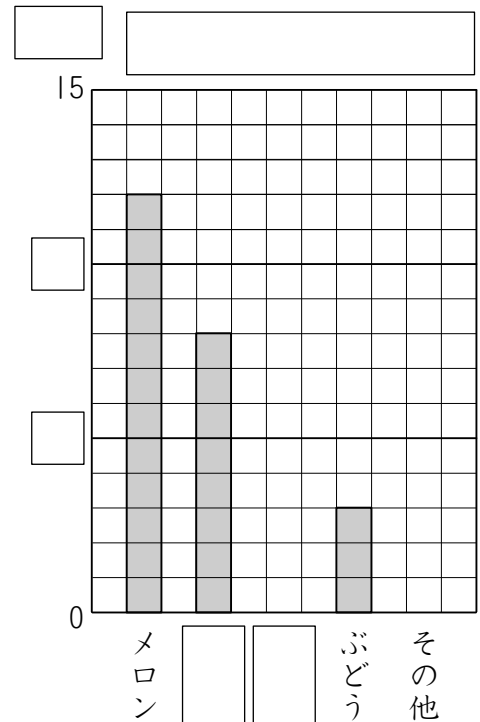


- ① 下の表はゆうこさんの組の人たちのすきなくだものを調べたものです。また、右のグラフはこれをぼうグラフに表そうとしたものです。

[9点×4]

すきなくだもの

しゅるい	メロン	いちご	すいか	ぶどう	その他	合計
人数(人)	12	8	5	3	7	35



- (1) 上の表を見て、右のぼうグラフをかんせいさせましょう。

- (2) ゆうこさんの組で、いちばん人数の多いすきなくだものは何ですか。

()

- (3) メロンがすきな人は、すいかがすきな人より何人多いでしょう。

()

- (4) ぼうグラフに表すと、表よりもどんなことがわかりやすくなりますか。記号で答えましょう。

()

- ㉠ 全体の人数がわかりやすくなる。
- ㉡ 人数の多い少ないがくらべやすくなる。
- ㉢ 3人の人がすきなくだものは何かがわかりやすくなる。

- ② 右の表は3年生の3組の人たちのすきな動物^{どうぶつ}について調べたものです。

[7点×2]

- (1) 3組でりすのすきな人は何人いますか。

()

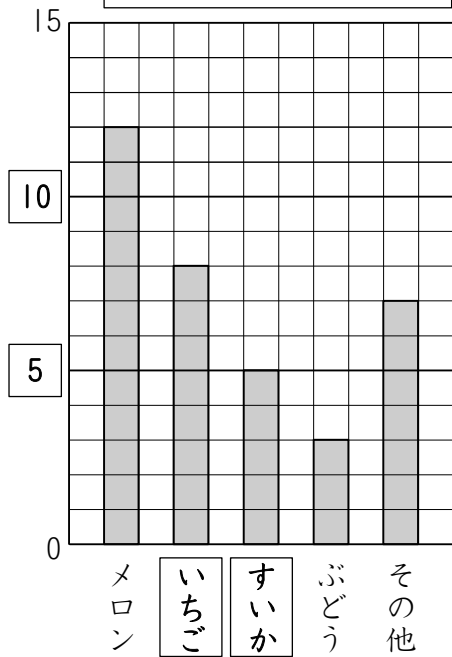
- (2) 3年生は全部^{ぜんぶ}で何人いますか。

()

組	1組	2組	3組	合計
しゅるい				
パンダ	12	10	10	32
りす	4	8	15	27
ぞう	9	7	4	20
その他	5	7	2	14
合計	30	32	31	93

解答

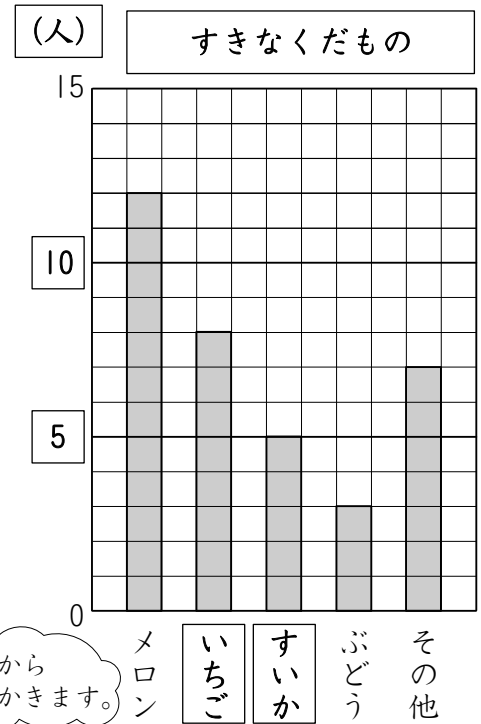
- ① (1) (人) すきなくだもの (2) メロン (3) 7人 (4) い



- ② (1) 15人 (2) 93人

解説

- ① (1) たてのじくは人数を表しているので、
たんに 人。
1めもりは1人を表すので、たてのじく
の□には下から5, 10とかきます。
- (2) ぼうグラフの高さでくらべると、
メロンがいちばん多い。
- (3) メロンが好きな人は, 12人
すいかが好きな人は, 5人
 $12 - 5 = 7$ (人)
- (4) ぼうグラフに表すと, 表よりも
大きさがくらべやすくなります。



多いものから
じゅんにかきます。

- ② (1) 3組のらんとりすのらんのぶつ
かったところをよみます。
- (2) しゅるいごとの合計と組ごとの
合計のらんのぶつかったところを
よみます。

組	1組	2組	3組	合計
しゅるい				
パンダ	12	10	10	32
りす	4	8	15	27
ぞう	9	7	4	20
その他	5	7	2	14
合計	30	32	31	93