

算3-0902チ01

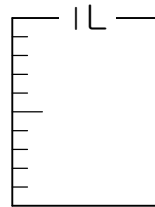
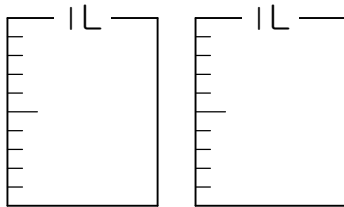


① つぎのかさだけ色をぬりましょう。

[5点×2]

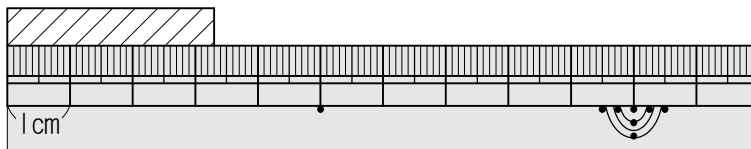
(1) 1.4L

(2) 0.7L



② つぎのテープの長さは何cmですか。

[5点]



()

③ □にあてはまる数をかきましょう。

[5点×3]

(1) 1が5こと, 0.1が2こで □ です。

(2) 3.8は, 0.1を □ こあつめた数です。

(3) 7より0.1小さい数は □ です。

④ つぎの計算をひっ算でしましょう。

[5点×4]

(1) $0.9 + 0.5$

(2) $8 + 1.7$

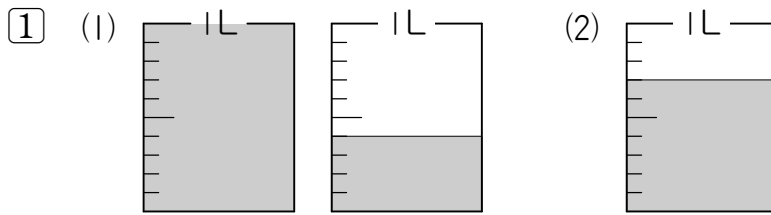
(3) $6.2 - 4.3$

(4) $7 - 2.6$

小数

算3-0902チ01

解答



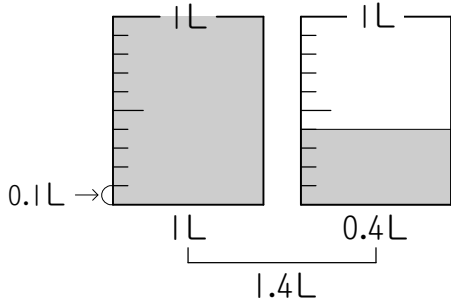
② 3.3 cm

③ (1) 5.2 (2) 38 (3) 6.9

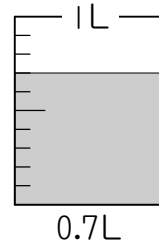
④ (1) 1.4 (2) 9.7 (3) 1.9 (4) 4.4

解説

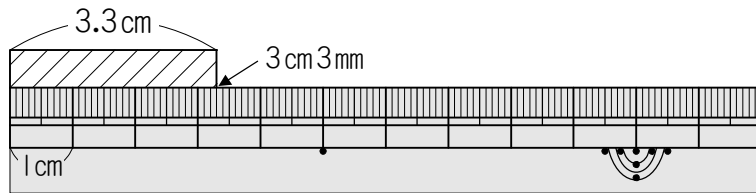
- ① (1) 1Lが10にくぎってあるので、
1めもりは0.1Lです。
4めもりで0.4Lをあらわして
います。



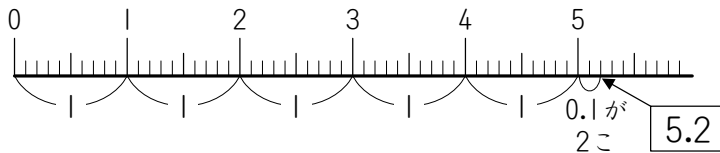
- (2) 1Lが10にくぎってあるので、
1めもりは0.1Lです。
7めもりで0.7Lをあらわして
います。



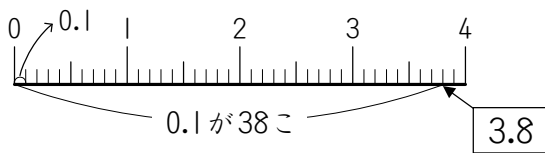
- ② 1mmは0.1cmです。



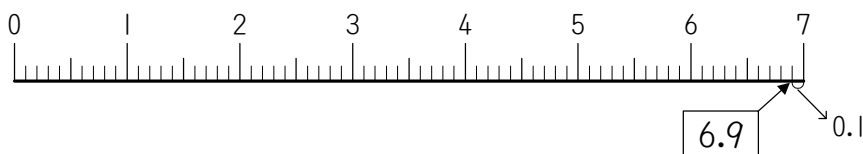
- ③ (1) 1が5こで5, 0.1が2こで0.2だから、あわせると5.2



- (2) 0.1が10こで1だから0.1が30こで3, 0.1が8こで0.8なので、3と0.8をあわ
せた3.8は、0.1を38こあつめた数です。



- (3) 1めもりが0.1の数直線上でみると、7より0.1小さい数は7より1めもり左に
ある数で、6.9



- ④ (1)
$$\begin{array}{r} 0.9 \\ + 0.5 \\ \hline 1.4 \end{array}$$
 (2)
$$\begin{array}{r} 8.0 \\ + 1.7 \\ \hline 9.7 \end{array}$$
 (3)
$$\begin{array}{r} 6.2 \\ - 4.3 \\ \hline 1.9 \end{array}$$
 (4)
$$\begin{array}{r} 7.0 \\ - 2.6 \\ \hline 4.4 \end{array}$$