

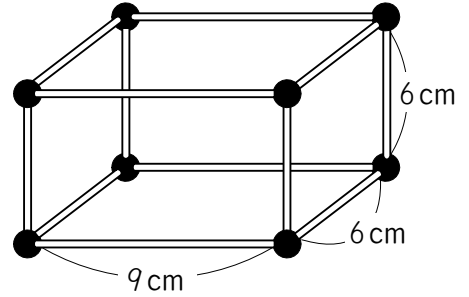
算2-1501チ01



① ひごとねん土玉をつかって、右の
 ようなはこの形かたちをつくりました。
 つぎのもんだいに答えこたましょう。

[10点×3]

(1) ねん土玉は何なんこいるでしょう。

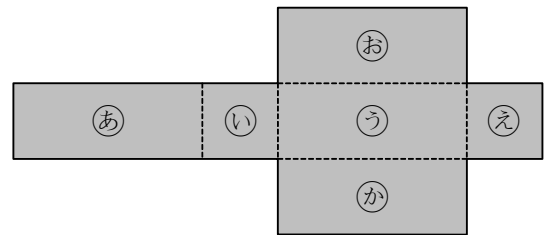


(2) 6cmのひごは何本いるでしょう。

(3) このはこの形をがみあつ紙せいほうけいでつくるとき、正方形のあつ紙は何まいいるでしょう

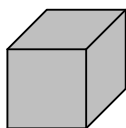
② 工こうさく作用紙ようしを右のように切きって、はこをつくります。 [10点×2]

(1) 組くみ立てたとき、めん③の面と
 むかい合あう面はどれですか。

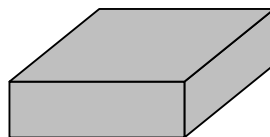


(2) 組くみ立てると、どのはこができるでしょう。

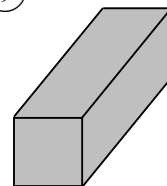
ア



イ



ウ

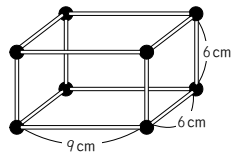


はこの形

算2-1501チ01

① ひごと ねん土玉をつかって、右の
 ようなはこの形をつくりました。
 つぎの もんだいに 答えましょう。

[10点×3]



(1) ねん土玉は何こ いるでしょう。

8こ

(2) 6cmの ひごは 何本 いるでしょう。

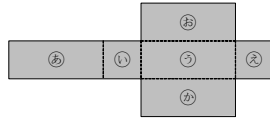
8本

(3) このはこの形を あつ紙で つくるとき、正方形の あつ紙
 は 何まい いるでしょう

2まい

② 工作用紙を 右のように 切って、はこをつくります。 [10点×2]

(1) 組み立てたとき、㊦の面と
 むかい合う 面は どれですか。



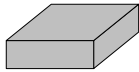
㊦

(2) 組み立てると、どの はこができるでしょう。

ア



イ



ウ



ウ