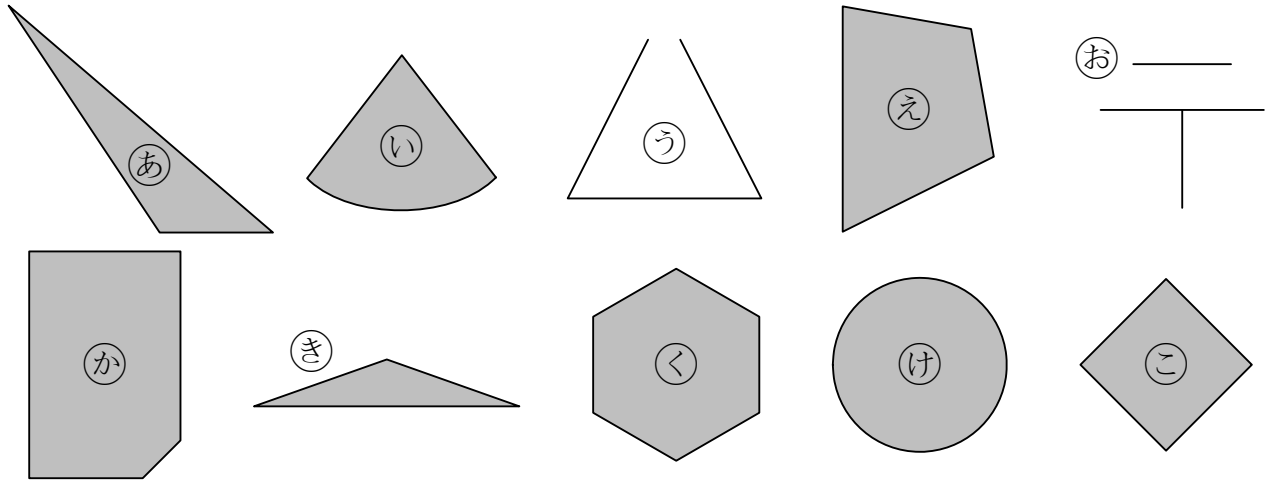


算2-1402チ01



① つぎの ^{かたち}形をみて、下の ^{こと}もんだいに ^{こた}答えましょう。 [10点×3]



(1) ^{ちよくせん}直線だけで ^かこまれて いる 形は どれですか。

(2) ^{さんかくけい}三角形は どれですか。

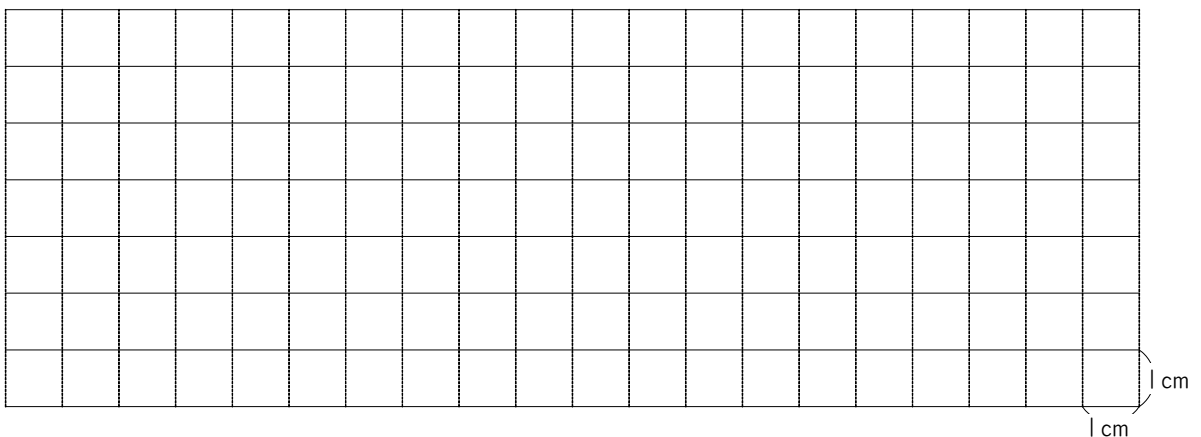
(3) ^{しかくけい}四角形は どれですか。

② 下の ^{ほう}方 ^しが ^しん ^し紙に つぎの 形を かきましょう。 [(1)(2)6点×2, (3)8点]

(1) 2つの ^{へん}辺の ^{なが}長さが 2cm と 4cm の ^{ちやうほうけい}長方形

(2) 1つの ^{へん}辺の ^{なが}長さが 4cm の ^{せいほうけい}正方形

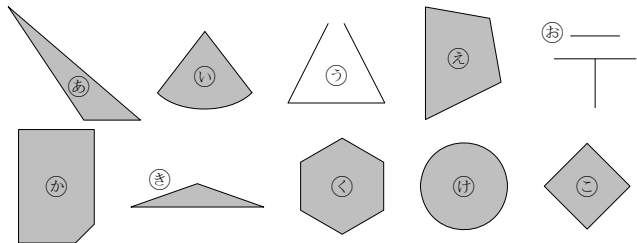
(3) ^{ちやうかく}直角を はさむ 2つの ^{へん}辺の ^{なが}長さが 5cm と 2cm の 直角三角形



三角形と四角形

算2-1402チ01

① つぎの ^{かたち}形をみて、下の ^{もんだい}もんだいに ^{こた}答えましょう。 [10点×3]



(1) 直線 ^{ちよくせん}だけで ^{かこ}こまれて ^{いる}いる形は ^{どれ}どれですか。

あ え か き く こ

(2) 三角形 ^{さんかくけい}は ^{どれ}どれですか。

あ き

(3) 四角形 ^{しかくけい}は ^{どれ}どれですか。

え こ

② 下の ^{ほう}方が ^し紙に ^{つぎ}つぎの形をかきましょう。 [(1)×2]6点×2、(3)8点]

(1) 2つの ^{へん}辺の ^{なが}長さが 2cm と 4cm の ^{ちやうほうけい}長方形

(2) 1つの ^{へん}辺の ^{なが}長さが 4cm の ^{せいほうけい}正方形

(3) ^{ちよくかく}直角を ^{はさむ}はさむ 2つの ^{へん}辺の ^{なが}長さが 5cm と 2cm の ^{ちよくさんかくけい}直角三角形

