





- ① 色のついたところがもとの $\frac{1}{2}$ のものをえらびましょう。

[6点]


ア



イ



ウ

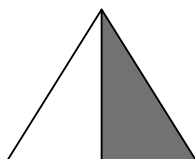


()

- ② 色のついたところはもとの大きさの ^{なんぶん}何分の一でしょう。

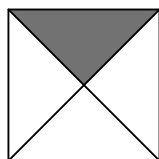
[7点×4]

(1)



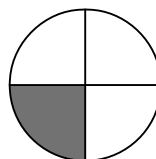
[]

(2)



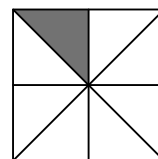
[]

(3)



[]

(4)




[]

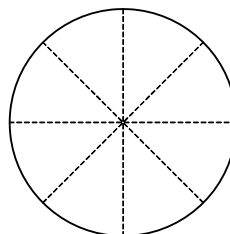
- ③ もとの大きさの $\frac{1}{4}$ だけ色をぬりましょう。

[8点×2]

(1)



(2)




分数


算2-1101チ01

- ① 色の ついた ところが もとの $\frac{1}{2}$ の ものを えらびましょう。 〔6点〕

ア



イ



ウ



(イ)

- ② 色の ついた ところは もとの 大きさの 何分の 一でしょう。 〔7点×4〕

(1)



$\left[\frac{1}{2} \right]$

(2)



$\left[\frac{1}{4} \right]$

(3)



$\left[\frac{1}{4} \right]$


(4)



$\left[\frac{1}{8} \right]$

- ③ もとの 大きさの $\frac{1}{4}$ だけ 色を ぬりましょう。 〔8点×2〕

(1)



(2)

