




① かけ算のしきに かきましょう。答えは たし算で もとめま
しょう。 [5点×2]



しき

たし算

答え

しき

たし算


答え

② 九九を つかって 計算しましょう。 [3点×9]

- (1) $2 \times 1 = \square$
- (2) $2 \times 2 = \square$
- (3) $2 \times 5 = \square$
- (4) $2 \times 7 = \square$
- (5) $5 \times 2 = \square$
- (6) $5 \times 3 = \square$
- (7) $5 \times 6 = \square$
- (8) $5 \times 8 = \square$
- (9) $5 \times 9 = \square$

③ つぎの もんだいに 答えましょう。


(1) 1はこに ソフトクリームが 2こずつ 入って
います。5はこでは 何こに なりますか。 [6点]



(しき) (答え)

(2) 1本の 木に りんごが 5こずつ なって います。
木が 7本では りんごは 何こに なるでしょう。

[7点]



(しき) (答え)

算2-0605チ01



① 九九を つかって 計算^{けいさん}しましょう。

[2点×18]

(1) $3 \times 2 = \square$

(2) $3 \times 3 = \square$

(3) $4 \times 1 = \square$

(4) $4 \times 5 = \square$

(5) $3 \times 6 = \square$

(6) $3 \times 7 = \square$

(7) $4 \times 8 = \square$

(8) $4 \times 9 = \square$

(9) $3 \times 4 = \square$

(10) $3 \times 5 = \square$

(11) $4 \times 6 = \square$

(12) $4 \times 7 = \square$

(13) $3 \times 8 = \square$

(14) $3 \times 9 = \square$

(15) $4 \times 2 = \square$

(16) $4 \times 3 = \square$

(17) $3 \times 1 = \square$

(18) $4 \times 4 = \square$

② つぎの もんだいに 答え^{こた}ましょう。

[7点×2]

(1) 1さらに ケーキが 3こずつ のって います。
5さらでは 何^{なん}こに なるでしょう。




(しき)

(答え)

(2) 1まいの はの 上に かえるが 4ひきずつ のって
います。はが 6まいでは 何^{なん}びきに なるでしょう。

(しき)

(答え)



かけ算(1) 1

算2-0603チ01 かけ算(1) 2

算2-0605チ01

① かけ算のしきに かきましょう。答えは たし算で もとめま
しょう。 [5点×2]



しき 8×4
たし算 $8+8+8+8=32$
答え $32こ$



しき 6×5
たし算 $6+6+6+6+6=30$
答え $30本$

② 九九を つかって 計算しましょう。 [3点×9]

- (1) $2 \times 1 = 2$ (2) $2 \times 2 = 4$ (3) $2 \times 5 = 10$
 (4) $2 \times 7 = 14$ (5) $5 \times 2 = 10$ (6) $5 \times 3 = 15$
 (7) $5 \times 6 = 30$ (8) $5 \times 8 = 40$ (9) $5 \times 9 = 45$

③ つぎの もんだいに 答えましょう。

(1) 1はこに ソフトクリームが 2こずつ 入っ
て います。5はこでは 何こに なりますか。 [6点]
(しき) $2 \times 5 = 10$ (答え) $10こ$



(2) 1本の 木に りんごが 5こずつ なっ
て います。木が 7本では りんごは 何こに なるでし
ょう。 [7点]
(しき) $5 \times 7 = 35$ (答え) $35こ$



① 九九を つかって 計算しましょう。 [2点×18]

- (1) $3 \times 2 = 6$ (2) $3 \times 3 = 9$ (3) $4 \times 1 = 4$
 (4) $4 \times 5 = 20$ (5) $3 \times 6 = 18$ (6) $3 \times 7 = 21$
 (7) $4 \times 8 = 32$ (8) $4 \times 9 = 36$ (9) $3 \times 4 = 12$
 (10) $3 \times 5 = 15$ (11) $4 \times 6 = 24$ (12) $4 \times 7 = 28$
 (13) $3 \times 8 = 24$ (14) $3 \times 9 = 27$ (15) $4 \times 2 = 8$
 (16) $4 \times 3 = 12$ (17) $3 \times 1 = 3$ (18) $4 \times 4 = 16$

② つぎの もんだいに 答えましょう。 [7点×2]

(1) 1さらに ケーキが 3こずつ のっ
て います。5さらでは 何こに なるでし
ょう。



(しき) $3 \times 5 = 15$ (答え) $15こ$

(2) 1まいの はの 上 に かえるが 4ひき
ずつ のっ て います。はが 6まいでは 何ひき
に なるでし ょう。

(しき) $4 \times 6 = 24$ (答え) $24ひき$

