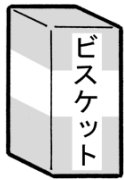


算1-1302チ01



① うえと したで おなじ かたちの なかまを ———— せんで
むすびましょう。

[25点]



•



•

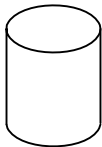


•

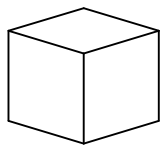


•

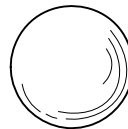
•



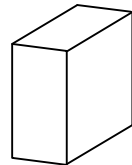
•



•

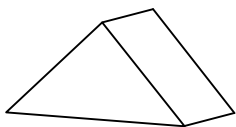


•

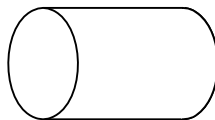


② うえの つみきから、したの どの かたちを かいたで
しょう。 ———— せんで むすびましょう。

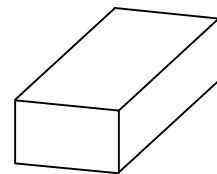
[25点]



•




•



•

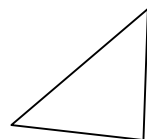
•



•



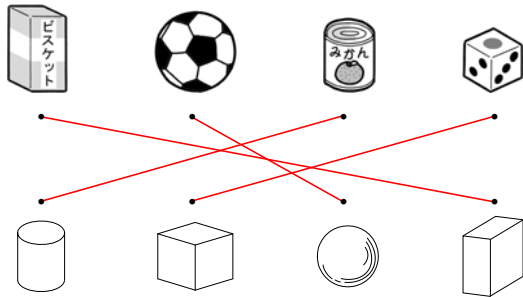
•



かたち

算1-1302チ01

- ① うえと したで おなじ かたちの なかまを — せんで むすびましょう。 〔25点〕



- ② うえの つみきから、したの どの かたちを かいたて しょう。 — せんで むすびましょう。 〔25点〕

