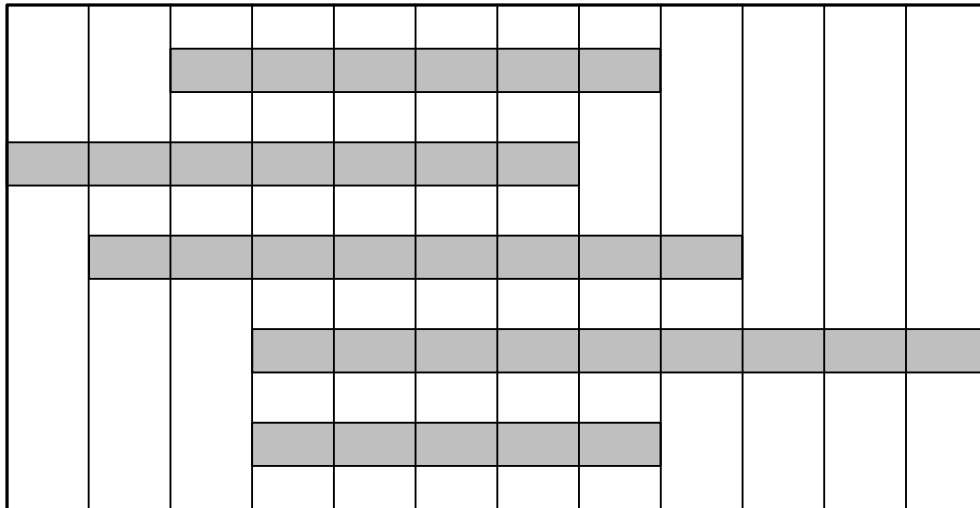




① ながいものから、じゅんにばんごうをかきましょう。

[20点]



( )

( )

( )


( )

( )


② どちらのほうがなんばい おおく はいっているでしょう。

[10点]

すいとう



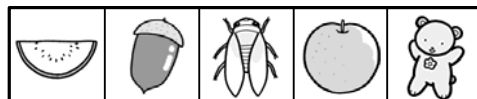



やかん



Blank rectangular box for writing the answer.

③ ひろいじゅんにばんごうをかきましょう。

[20点]



( )

( )

( )

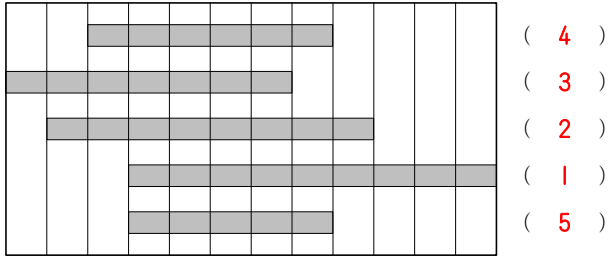
( )

おおきさくらべ

算1-1103チ01

① ながいものから、じゅんに ばんごうを かきましょう。

[20点]



② どちらのほうが なんばい おおく はいっているでしょう。


[10点]



やかんのほうが4はい おおく はいっている

③ ひろい じゅんに ばんごうを かきましょう。

[20点]



( 2 )   ( 4 )   ( 1 )   ( 3 )