

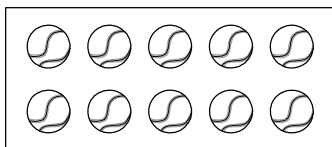
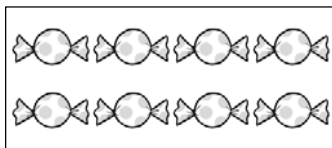


算1-0103チ01



① えの かずだけ ● を かきましょう。

□ に すうじを かきましょう。

[5点×3]



② かくれている かずを [ ] に かきましょう。

[10点]

	1	2	3			6		8		10
[ ]				[ ] [ ]	[ ]		[ ]		[ ]	

③ □ に あてはまる かずを かきましょう。

[5点×5]

(1) [ 0 ] — [ ] — [ 2 ]

(2) [ 8 ] — [ 9 ] — [ ]

(3) [ 8 ] — [ ] — [ 6 ] — [ ] — [ 4 ]

(4) [ ] — [ 3 ] — [ 2 ]


(5) [ 3 ] — [ ] — [ 1 ] — [ ]

算1-0104チ01



① どれが いちばん おおいでしょう。

[7点]



そふとくりいむ

けえき

どおなつ

② おおきい ほうに ○を つけましょう。

[7点×3]

(1) ( 3 10 ) (2) ( 6 0 ) (3) ( 4 9 )


③ いちばん ちいさい かずに ○を つけましょう。

[7点×2]

(1) ( 5 2 7 ) (2) ( 4 8 1 )

④ ねこと さかなでは どちらが どれだけ おおいでしょう。

[8点]



の ほうが ひき おおい。

かずとすうじ1


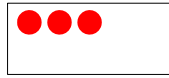
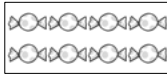



算1-0103チ01 かずとすうじ2

算1-0104チ01

① えの かずだけ ● を かきましょう。

□ に すうじを かきましょう。

[5点×3]

		<input type="text" value="3"/>
		<input type="text" value="8"/>
		<input type="text" value="10"/>

② かかれて いる かずを [ ] に かきましょう。

[10点]

	<input type="text" value="1"/>	<input type="text" value="2"/>	<input type="text" value="3"/>			<input type="text" value="6"/>		<input type="text" value="8"/>		<input type="text" value="10"/>
<input type="text" value="0"/>				<input type="text" value="4"/>	<input type="text" value="5"/>		<input type="text" value="7"/>		<input type="text" value="9"/>	

③ □ に あてはまる かずを かきましょう。

[5点×5]

(1)	<input type="text" value="0"/>	<input type="text" value="1"/>	<input type="text" value="2"/>	(2)	<input type="text" value="8"/>	<input type="text" value="9"/>	<input type="text" value="10"/>	
(3)	<input type="text" value="8"/>	<input type="text" value="7"/>	<input type="text" value="6"/>	<input type="text" value="5"/>	<input type="text" value="4"/>			
(4)	<input type="text" value="4"/>	<input type="text" value="3"/>	<input type="text" value="2"/>	(5)	<input type="text" value="3"/>	<input type="text" value="2"/>	<input type="text" value="1"/>	<input type="text" value="0"/>

① どれが いちばん おおいでしょう。

[7点]

		
そふとくりいむ	けえき	どおなつ
	<input type="text" value="けえき"/>	

② おおきい ほうに ○ を つけましょう。

[7点×3]

(1) ( 3  ) (2) (  0 ) (3) ( 4  )



③ いちばん ちいさい かずに ○ を つけましょう。

[7点×2]

(1) ( 5  7 ) (2) ( 4 8  )

④ ねこと さかなでは どちらが どれだけ おおいでしょう。

[8点]

	
<input type="text" value="さかな"/>	の ほうが <input type="text" value="2"/> ひき おおい。